

Ateq:

CPR:

KISITSISIT AAMMA ALGEBRA/GEOMETRII

- $367 + 1549 =$ _____
- $726 - 89 =$ _____
- $3 \cdot 624 =$ _____
- $856 : 4 =$ _____

Kisitsimmut ilivtsimut qaninnermut akunnaallikkit

- $11,46 \approx$ _____
- $9\frac{7}{8} \approx$ _____

7. 300 kr.-p 7 %-ia = _____ kr.

8. 9000 kr.-p $\frac{1}{3}$ -ia = _____ kr.

9. 6 kg = _____ g

10. 5,5 l = _____ dl

11. 1750 m = _____ km

Naalisakkit

12. $2a + 2b + a =$ _____

13. $3(3a - b) + b =$ _____

Assigiissitat kisikkit

14. $x + 3 = 9$ $x =$ _____

15. $3x = 75$ $x =$ _____

16. $\frac{1}{7} + \frac{3}{7} =$ _____

17. $\frac{1}{2} - \frac{1}{4} =$ _____

18. $\frac{3}{5} \cdot \frac{1}{3} =$ _____

19. $\frac{5}{6} : \frac{1}{4} =$ _____

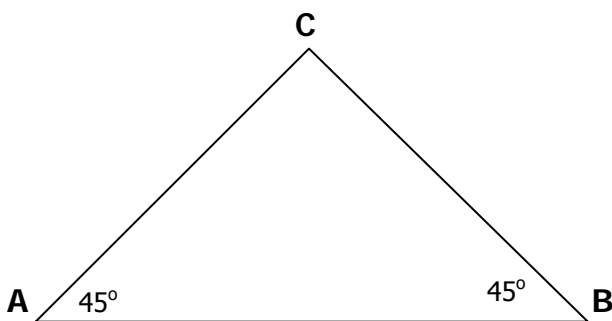
20. Kisitsit minnerpaaq ammalotuleruk

0,03 0,303 0,33 3,3

21. 1 tiimi = _____ minutsit

22. 72 tiimit = ullut unnuallu _____

23. 2 tiimit + $\frac{1}{2}$ tiimi = _____ tiimit _____ minutsit



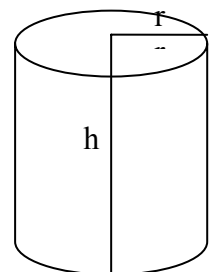
24. Qiverneq C _____ °-uvoq

25. Trekant ABC taaneqartarpoq _____

Ulamaarissoq:

Initussuseq = $\pi \cdot r^2 \cdot h$

$r = 3$ cm
 $h = 6$ cm



26. Ulamaarissup initussuseraa _____ cm³

27. Ulamaarissup qaavani diameteri titaruk _____

Aasami feeriarneq

Kunuk titartaasarfimmi ualikkut kopi-risutut ikiortaalluni sulisarpoq.

Sap. ak. pingasuni Kunuup sulinermini tiimii imaapput:

	Ataasinng.	Marlunng.	Pingasunng.	Sisamanng.	Tallimanng.
Sap.ak. 1	3	2	3	4	1
Sap.ak. 2	2	4	2	2	1
Sap.ak. 3	5	2	3	3	2

28. Sap.ak. pingasuni tiimit katillugit qassit Kunuk sulisimava?

Kunuk tiimimut 60 kr.-sisarpoq.



**29. Sap. ak. pingasuni kruuninik qassinik
Kunuk akissarsiva?**

30. Agguaqatigiissillugu sap. akunneranut tiimit qassit Kunuk sulisimava?

Kunuk aalajangernikuuvoq aasamut feeriarniarluni.

Kunuk juunip 23-ani feeriarniarpoq.

Kunuk apriliip 7-iani feeriarnissani aalajangiuppa.

Apr 2009							Maj 2009							Jun 2009						
S	M	T	O	T	F	L	S	M	T	O	T	F	L	S	M	T	O	T	F	L
30	31	1	2	3	4							1	2	1	2	3	4	5	6	
5	6	7	8	9	10	11	3	4	5	6	7	8	9	7	8	9	10	11	12	13
12	13	14	15	16	17	18	10	11	12	13	14	15	16	14	15	16	17	18	19	20
19	20	21	22	23	24	25	17	18	19	20	21	22	23	21	22	23	24	25	26	27
26	27	28	29	30			24	25	26	27	28	29	30	28	29	30	1	2	3	4
							31													

31. Kunuup feerialernissanut sapaatip akunneri qassiuppat?

Feeriarnissaminut ooriuteqarniassagami Kunuk aalajangerpoq akissarsiami ilai sipaartarniarlugit.

Aalajangerpoq akissarsiami 1/3-ii sap.ak. tamaasa sipaartarniarlugit.

32. Feerialertigani aningaasat qanoq amerlatigisut Kunuup sipaarpai?

Umiartorneq

Kunuk Narsami najugaqarpoq, umiarsuarlunilu Sisimiunut feeriarniarpoq.

Ingerlaartarnissaq

31. marts - 29. april		tikiff.	aallarf.
Narsaq	Pingasunngorneq	19:00	
Qaqortoq		21:00	22:00
Arsuk	Sisamanngorneq	07:00	07:15
Paamiut		14:00	15:00
Qeqertarsuatsiaat		22:30	22:45
Nuuk	Tallimannngorneq	07:30	21:00
Maniitsoq	Arfininngorneq	07:30	08:00
Kangaamiut		11:15	11:30
Sisimiut		18:30	
Sisimiut	Ataasinngorneq		11:00
Kangaamiut		17:30	17:45
Maniitsoq		21:30	22:00
Nuuk	Marlunngorneq	06:30	09:00
Qeqertarsuatsiaat		16:30	16:45
Paamiut		23:30	23:59
Arsuk	Pingasunngorneq	06:15	06:30
Qaqortoq		15:00	16:00
Narsaq		18:00	



Kunuk umiarsuup aallarnissaa 1 tiimi sioqqullugu umiarsualivimmeeriissaaq.

33. Nal. qassinut Kunuk Narsap umiarsualivianeeriissava?

34. Narsamiit Nuummut umiarsuarnerat qanoq sivilissuseqarpa? Umiarsualivimmi uninnganerit ilanngunneqassanngillat.

35. Qaqugu Kunuk Sisimiunut apuutissava?

Ilanngussaq 1 takuuk. Suliassani tullinnguuttuni atussavat.

36. Narsamiit Sisimiunut 24-ni juuni ammannartumiilluni bilitsi qanoq akeqarpa?


37. Narsamiit Sisimiunut inummut ataatsimut bilitsip akikinnerpaap akisunerpaallu akiisa nikingassutaat qassiuva?

Katinneq

Kunuk aalajangernikuuvoq angalanissaminut nammattagarsiniarluni. Internettimi nammattagaq North Face perusutani nassaaraa.

Akia tassaavoq amerikamiut dollarii USD.

The North Face SKAREB 55-Medium



Our price: **\$168.95**
This item SHIPS FREE!

Click to see photos of every color:

Select a color
 1. Black

Add to Cart

Usually leaves warehouse within 2 business days.
[When will it get to me?](#)

[Click to Zoom](#)

DAGENS VALUTAKURSER*

Navn	ISO	Kurs
Amerika	USD	551,9000
Australien	AUD	392,9800
Bulgarien	BGN	380,8400
Canada	CAD	447,2000
Estland	EEK	47,6000
Euro	EUR	744,8500
Filippinerne	PHP	11,5600
Hong Kong	HKD	71,2000

38. Nammattagaq danskit kruuniinik qassinik akeqassava?

Aasami kingusinnerusukkut Kunuk ilaqtanilu Nuummuk katittorsioriartorniarpuk. Narsamiit aggustip 28-ni aallassappuk.

Ilaqutariullutik aqqaneq-marluuppuk:

- 1 meeraq 0 – 1 ukiulik
- 4 meeqqat 2 – 11 ukiullit
- 6 inersimasut
- 1 pensionisti

Skiimamiittutut akikillisaaffigineqarsinnaappuk.

39. Meeqqanut tamanut bilitsit qanoq akeqarpat, ammaannartuni Narsaq-Nuuk?

40. Inersimasunut arfinilinnut bilitsit qanoq akeqarpat akikillilerutaat peerlugu, ammaannartuni Narsaq-Nuuk?

41. Pensionistimut bilitsi qanoq akeqarpat, ammaannartuni Narsaq-Nuuk?

42. Bilitsit katillugit qanoq akeqarpat?

Akit

Akikilliffigineqarnissamut periarfissat

Akikilliffigineqarnissamut periarfissat pillugit sullissisutinnut tusarniaagit. Akikillisaatit kingumut tunniunneqarsinnaangillat.

Akit DKK.-inngorlugit nalunaarsugaappuk. Akinut ilanngunneqanngilaq sullissinermut akiliut. Akit allattorsimaffiani naqinnerluisoqarsimasinnaanera sillimaffigineqarpoq.

Akikilliffigineqartut

Meeqqanut akikilliliissut	
0-1 ukiullit ilanngullugit	90%
2-11 ukiullit ilanngullugit	50%

Utoqqalinersiutilinnut akikilliliissut

1. januaari - 14. juuni aamma	
15. aggusti - 31. decembari	50%
15. juuni - 14. aggusti (initamiinneq 25% ilanngunnagu)	

Tapiitsumut

ingiallortaanermut akikilliliissut	
Sullinneqarnermut akiliut DKK	100%
100,-	

Ataatsimoorluni angalaqatigiinnut akikilliliissut

1. januaari - 14. juuni aamma	
15. aggusti - 31. decembari	20%

(initamiinneq ilanngunnagu)



PDF PRINT EMAIL

Umiarsuarmi

Umiarsuarmut nassatat 30 kg angullugu oqimaassusillit inuup ataatsip nassarsinnaavai. Kunuk ilaqtannilu katillutik aqqaneq-marluupput.

43. Kunuup ilaqtasalu nassatat katillugit kg-t qassit umiarsuarmut nassarsinnaavaat?

Umiarsuaq ingerlaarnerminni nassatanut toqqorsiviuteqarpoq. Nassatanut toqqorsiviup uuttuutai imaapput:

- Portussusia 90 cm
- Silissusia 50 cm
- Qinngortussusia 50 cm



44. Nassatanut toqqorsivik dm^3 -inik qassinik imartussu:

Sukisaarsaatigalugu Kunuk ilaqtannilu terninnginik pinnguarput. Aallaqqaammut terninngi ataaseq atorlugu pinnguarput.

45. Makitseriaanermi 6-ip makinnissaata ilimanassusia qassiu?

Kingusinnerusukkut terninngit marluk atorlugit pinnguarput.



46. Makitseriaanermi 6-it ataatsikkut makinissaasa ilimanassusiat qassiu?

Umiarsuaq Narsamiit aallarpoq sinersulerlunilu. Tikitaasa ilagaat Arsuq.

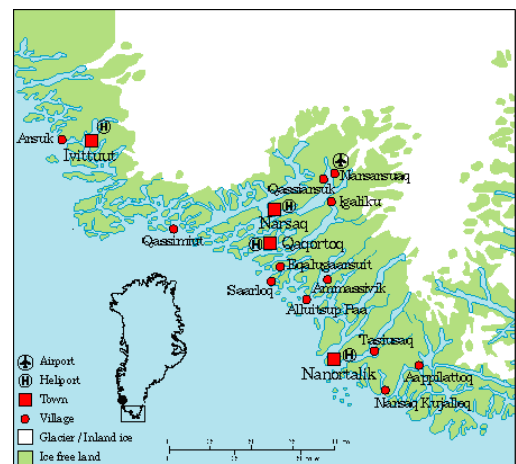
Narsamiit Arsummut ingerlasaat 198 km-it missaaniippoq, ingerlaarnerallu 11 tiiminik sivisussuseqarpoq.

47. Agguaqatigiissillugu tiimimut kilometerit qassit ingerlaarpaat?

Umiartorluni sukkassuseq tiimimut knobiutinneqartarpoq.

1 knob = 1,8 km/t miss.

48. Agguaqatigiissillugu tiimimut knobit qassit umiarsuup ingerlavai?



Umiarsuarmik angalaarneq

Ukiuni kingullerni Kalaallit Nunaannut takornariassalluni soqutiginninneq alliarporpoq. Kalaallit Nunaanni illoqarfinnik takornariarsimasut amerlassusiat ataani tabelimi takuneqarsinnaavoq.



	2003	2004	2005	2006	2007	2008
Ilaasut amerlassusiat	9.655	15.654	16.446	22.051	23.506	28.891

49. 2003-miit 2008-mut ilaasut amerlassusiisa agguataarnerat millimeterpappiaqqamut diagrammiliarikkit.