

Tal og algebra

- $73 + 465 =$ _____
- $475 - 92 =$ _____
- $3 \cdot 604 =$ _____
- $216 : 8 =$ _____

Afrund til nærmeste hele tal

- $7,85 \approx$ _____
- $7\frac{3}{4} \approx$ _____

Omskriv til decimaltal

- $47\% =$ _____
- $\frac{1}{4} =$ _____

- $3 \text{ kg } 50 \text{ g} =$ _____ g
- $1,5 \text{ km} =$ _____ m

Reducer

- $6a - 2b - 2a + 4b =$ _____
- $2 \cdot (4a + 2b) - b =$ _____

Løs ligningen

- $2x = 12$ $x =$ _____
- $3x - 5 = 16$ $x =$ _____

Udregn

- 10% af 500 kr. $=$ _____ kr.
- 25 kr. af 100 kr. $=$ _____ %



- $16 - 2 \cdot 3 =$ _____
- $10^3 + 10^2 =$ _____

19. Sæt ring om det største tal

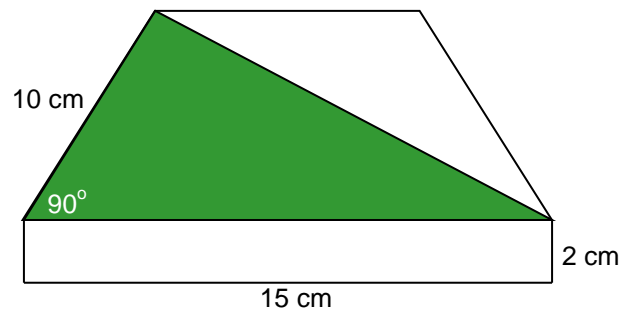
0,3 0,13 0,33 0,133 0,033

- $3\frac{1}{2} + 2\frac{1}{4} =$ _____
- $3 \cdot \frac{2}{3} =$ _____
- $\frac{1}{5}$ af 120 $=$ _____

Geometri

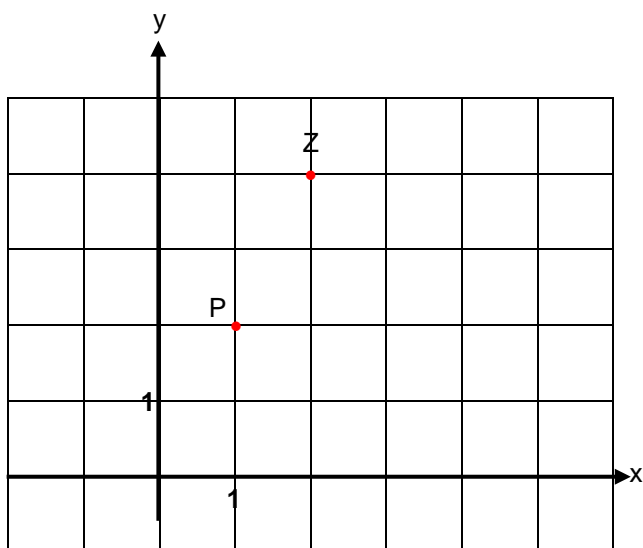


- Tegn radius i cirklen
- Tegn diagonalerne i firkanten



- Arealet af den grønne trekant er _____ cm^2

Geometri




26. Afsæt punktet M (-1,3)

27. Koordinaterne til P er (,)

Forbind punkterne P og Z og (0,0) med en linje. Linjen kaldes q.

28. Forskriften til linien q er $y =$ _____

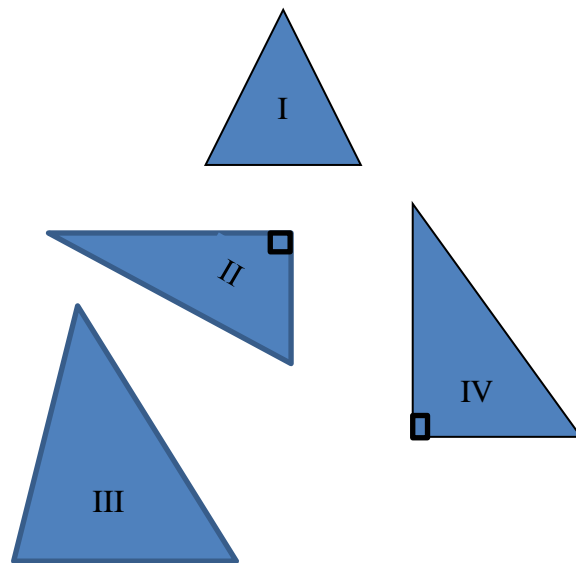


Plade med sorte og hvide cirkler.

29. I alt er der _____ cirkler.

30. Hvor stor en del af cirklerne er hvide? _____

31. Farv, således at 75% af cirklerne er sorte.



32. Hvilke af trekantene er retvinklede?

33. Hvilke af trekantene er ligebenet?

Her er et kvadrat med sidelængden s.



34. Sæt ring om det udtryk, der beskriver kvadratets omkreds.

$s + 4$ s^2 $4 \cdot s$ $\frac{s}{4}$

Anvendt matematik



Wii - konsol

SPAR 200,-
1700,-



SPAR 70,-
100,-



SPAR 150,-
300,-



SUPERPRIS
100

35. Før besparelsen koster Wii-konsol _____ kr.

36. Samlet besparelse ved køb af én af hver ting er _____ kr.



Kunuk har 5000 kr. på sin konto til 3% p.a.

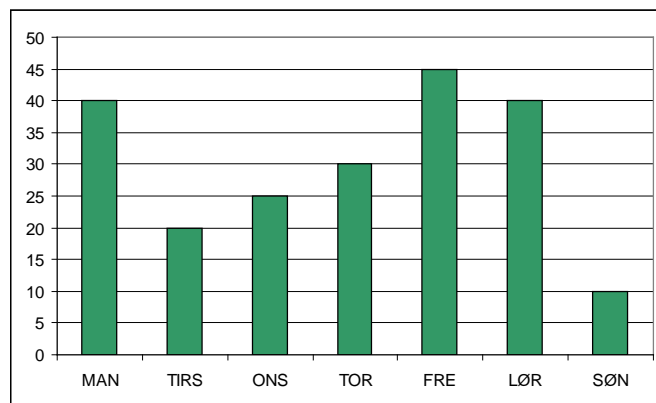
37 Renten efter et år _____ kr.

18:00 Tamassa	KNR TV onsdag
19:00 Qanorooq og vejret	
19:25 Reklamer	
19:30 Homeland	
20:20 Hammerslag	

38. Homeland varer _____ min.

Qanorooq og vejret sendes hver mandag - fredag kl. 19.00 - 19.25

39. Alle ugens Qanorooq og vejret varer _____ t. _____ min.



Sørines SMSer på en uge.

40. Antal SMSer om torsdagen er _____

41. Antal SMSer i alt er _____

42. Antal SMSer i gennemsnit pr. dag er _____