

Kisitsit aamma algebra

1. $73 + 465 =$ _____
2. $475 - 92 =$ _____
3. $3 \cdot 604 =$ _____
4. $216 : 8 =$ _____

Kisitsimmut ilivitsumut qaninnermut akunnaallikkitt

5. $7,85 \approx$ _____
6. $7\frac{3}{4} \approx$ _____

Ilaannakortalinngortikkitt

7. $47\% =$ _____
8. $\frac{1}{4} =$ _____

9. $3 \text{ kg } 50 \text{ g} =$ _____ g

10. $1,5 \text{ km} =$ _____ m

Naalisakkitt

11. $6a - 2b - 2a + 4b =$ _____
12. $2 \cdot (4a + 2b) - b =$ _____

Assigiissitat kisikkitt

13. $2x = 12$ $x =$ _____

14. $3x - 5 = 16$ $x =$ _____

Naatsorsukkit

15. $500 \text{ kr. -p } 10\% \text{-ia}$ _____ kr. -uvoq

16. $100 \text{ kr. -p } 25 \text{ kr.}$ _____ $\% \text{-erivaa}$

17. $16 - 2 \cdot 3 =$ _____

18. $10^3 + 10^2 =$ _____

19. Kisitsit annerpaaq ammalortuleruk



0,3 0,13 0,33 0,133 0,033

20. $3\frac{1}{2} + 2\frac{1}{4} =$ _____

21. $3 \cdot \frac{2}{3} =$ _____

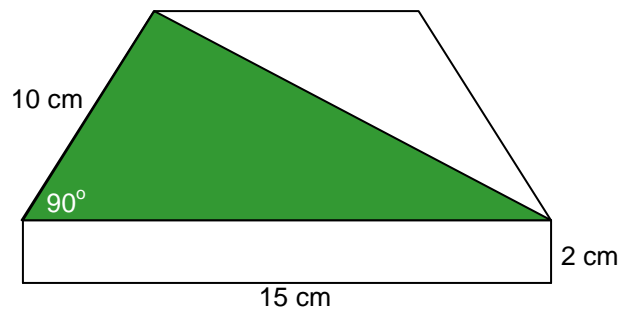
22. $120 \text{-p -ia} =$ _____

Geometrii



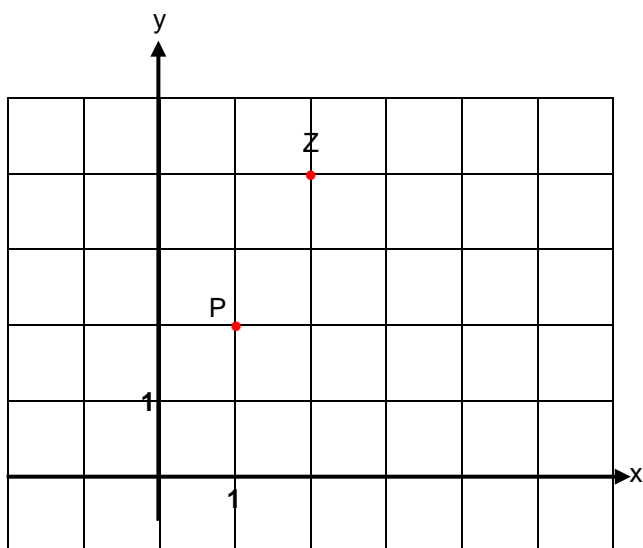
23. Cirkelip radiusia titaruk

24. Kipparissup diagonalii titakkitt



25. Trekantip qorsuup annertussusia _____ $\text{cm}^2 \text{-iuvoq}$

Geometrii




26. M (-1,3)-mut ikkuguk

27. P-p nalerai tassaapput (,)

P aamma Z aamma (0,0) titarnermik atassusikkit. Titarneq taaguuteqarpoq q.

28. Titarneq q-p forskriftia tassaavoq $y =$ _____

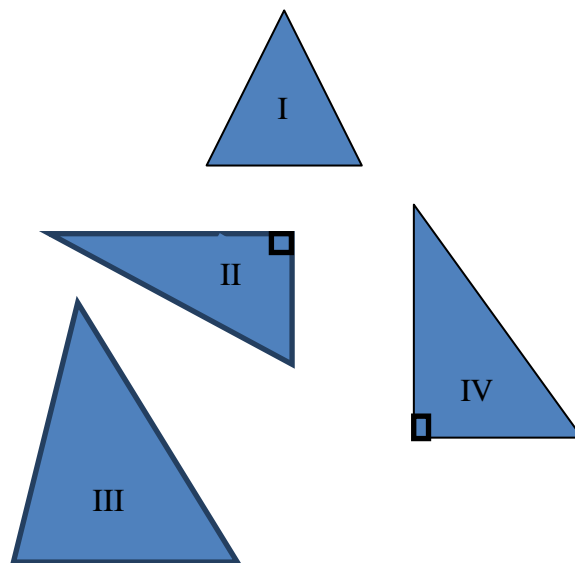


Kipparissoq qernertunik qaqortunillu cirkelilik.

29. Cirkelit katillugit _____ -upput.

30. Cirkelit qasserarterutaat qaqortuuppat? _____

31. Qalipaguk cirkelit 75%-ii qernertunngorlugit.



32. Trekantit sorliit qivernerissuuppat?

33. Trekantit sorliit takeqqatigiinnik niuusaqarpat?

Aajuna issoqqaarissoq s-imik sinarsulik.



34. Issoqqaarissup kaajallanneranik allaqqasoq ammalortuleruk.

$s + 4$ s^2 $4 \cdot s$ $\frac{s}{4}$

Matematikkip atuuffii



Wii - konsol

Sipaaruk 200,-
1700,-



Sipaaruk 70,-
100,-



Sipaaruk 150,-
300,-



AKIKIK
100,-

35. Akikillinnginnermini Wii-konsol akeqarpoq _____ kr.

36. Akikillisat tamaasa ataatsimik pisiffigigaanni sipaagaq katillugu _____ kr.-ussaaq



Kunuk kontomini 5000 kr.-uteqarpoq erniai 3% p.a.

37. Ukiumi ataatsimi erniai _____ kr.-upput

18:00 Tamassa

19:00 Qanorooq silassarlu

19:25 Reklamer

19:30 Homeland

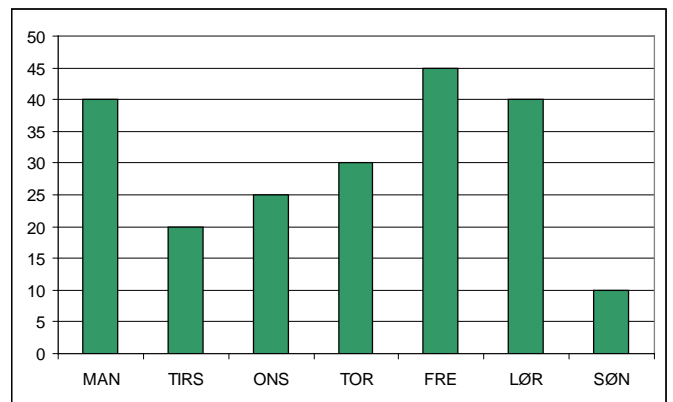
20:20 Hammerslag

KNR TV
ping.

38. Homeland siviussuseqarpoq _____ min.

Qanorooq silassarlu ataasinngornermiit tallimangornermut aallakaatinneqartarpoq nal. 19.00-imiit 19.25-mut.

39. Qanorooq silassarlu sap.ak.-nut siviussuseqarpoq ____ t. _____ min.



Sørinap sap.ak.-nut SMS-erneru.

40. Sisamangornermi SMS-it amerlassusaat _____-upput

41. SMS-it katillugit _____-upput

42. Agguaqatigiissillugu SMS-it ullormut _____-iupput