

Alloriarfimmi misiliutinut sungiusaat kopigassaq

Kopiark til øvelse i trintest

3. klassi

Ilinniartitsisup atuartunut nassuiaatissai:

Kalaallisut, qallunaatut matematikkimilu misilitsissaasi. (Ullussai ilisimatitsissutigisinnaavatit).

Misilitsissaasi atuarnissinni sumut killinnersusi paasiniassagatsigu.

Aamma 4. klassimi atualerussi sunik qanorlu atuartinneqassanersusi paasiniassagatsigu misilitsissaasi.

Sungiusaatit ukua assersuutaannaapput, misilitsilerussi misiliutissat qanoq ittuussanersut takoreerniassagassigit.

Misilitsilerussi atuartitsissutit ataasiakkaarlugit tamaasa immikkut misilitsiffigisavasi. Kalaallit oqaasiini immikkut. Qallunaat oqaasiini immikkut. Matematikkimi immikkut. Uani atuartitsissutit taakkua pingasut ataatsimoortillugit sungiusassaasi.

Misilitsilerussi suliassat nammineq suliarissavasi. Uani sungiusaatit atuaqatitit ilinniartitsisullu peqatigalugit suliarissavatit. Sungiusarnissinni nalornisasi suut suliassanersut qanorlu suliarinissaat oqaloqatigiissutigisinnaavasi.

Lærerens information til eleverne:

I skal testes i grønlandsk, dansk og matematik. (Oplys evt. datoer).

I skal testes så vi kan finde ud af, hvor langt I er kommet i fagene.

I skal også testes for at vi kan finde ud af, hvordan I skal undervises i 4. klasse.

Disse øvelser er kun eksempler, så I kan se hvordan testene kommer til at se ud.


Til de rigtige test vil I blive testet i hvert enkelt fag. Grønlandsk for sig. Dansk for sig. Matematik for sig. Her skal I lave øvelser fra de 3 fag.





Under testen skal du arbejde selv. Her skal du lave øvelser sammen med dine klassekammerater og lærer. Mens I øver, må I gerne tale sammen om, hvad der skal laves, og hvordan I skal gøre det.

Assersuutit - Eksempler

Assinganik aallaqqaatilik toqqaruk (Kalaallit oqaasii)

a

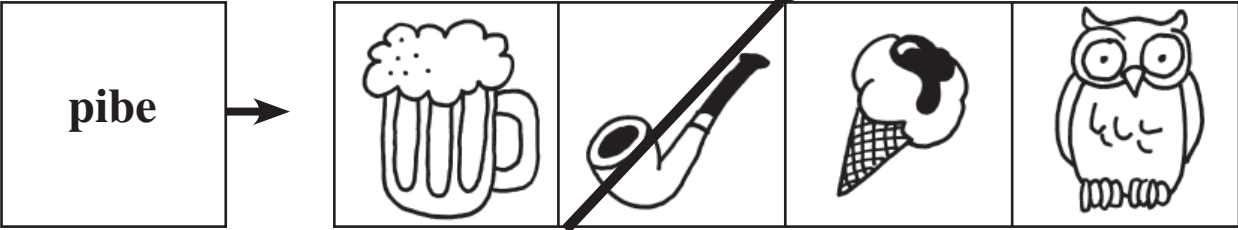






Nattoralik →    

(Nalunaaqutaq)

Hvad er det? (Dansk)


b



pibe →    

Kisitsigit / Regn opgave (Matematik)


c

$$10 + 20 = 30$$


Illit misileriaruk - Prøv selv

Hvad er det?

1



- et hus
- en fisk
- en bog
- en dreng

Oqaatsip naaneqataa toqqaruk

2

arsaq



- nilak
- qaqqaq
- sila
- ani

3

nasaa



- ajaa
- umiaq
- qajaq
- qaagit

Karsit imaqanngitsut immersukkit / Udfyld de tomme kasser

4

1	2	
---	---	--

5

3		5
---	--	---

6

$9 - 8 = \square$

7

$5 + 3 = \square$

Oqaaseq tulluuttoq toqqaruk

8

Piitaaq atuarfimmiit _____ .

↑
(Uani allataqassanngilatit)

- angerlamut.
- angerlarpoq.
- angerpoq.
- angivoq.

Find den sætning, der passer til billedet

9



- Peter græder.
- Peter spiser en is.
- Peter skal i skole.
- Peter står på ski.